

EDUCACIÓ VISUAL I PLÀSTICA CURS 2017 - 2018

TREBALLS DE RECUPERACIÓ D'ASSIGNATURA PENDENT

Instruccions generals Dossier de treball de 2n d'ESO

Per poder recuperar l'assignatura d'EVP, s'ha d'entregar tots els exercicis dels treballs, fets i acabats, de forma endreçada, neta i polida.

Els exercicis es faran sobre les fotocòpies facilitades.

Instruccions Exercicis:

Test:

Omplir les caselles de respostes i fer els dibuixos demanats, (3 pàgines).

(Amb llapis HB respostes escrites i geometria, amb llapis de colors variats, dibuixos).

Maquillatge artístic :

Sobre les plantilles de cares facilitades (una de noia i una de noi), dibuixar en colors, un maquillatge de fantasia, per a la noia, inspirat en els maquillatges, dels artistes dels espectacles del "Cirque du Soleil", i per a el noi, inspirat en els personatges de les pel·lícules d'aventures o de ciència ficció.

(Amb llapis de colors variats).

Disfressa de carnaval :

Sobre les plantilles de personatges, facilitades (noia i noi de cos sencer en silueta), dibuixar per a cada un d'ells, una disfressa de carnaval original i bonica.

(Amb llapis HB, per els contorns, amb llapis de colors per donar color a les formes).

Casa amb paisatge en blanc i negre :

Fent servir el model de casa amb paisatge, de la dreta de la fotocòpia, repetir el mateix tipus de línies, per omplir les superfícies del dibuix de l'esquerra, creant textures gràfiques en blanc i negre.

(Amb llapis HB).

1

A partir del punt A dibuixa una línia recta i a partir del punt B una línia corba.
Explica quina és la diferència entre aquets dos tipus de línies.

A ×

B ×

2

Dintre de cadascun dels requadres dibuixa un exemple de les línies que s'indiquen:

HORIZONTAL	VERTICAL	OBLIQUA
------------	----------	---------

3

Dintre de cadascun dels requadres dibuixa un exemple de les relacions entre línies que s'indiquen:

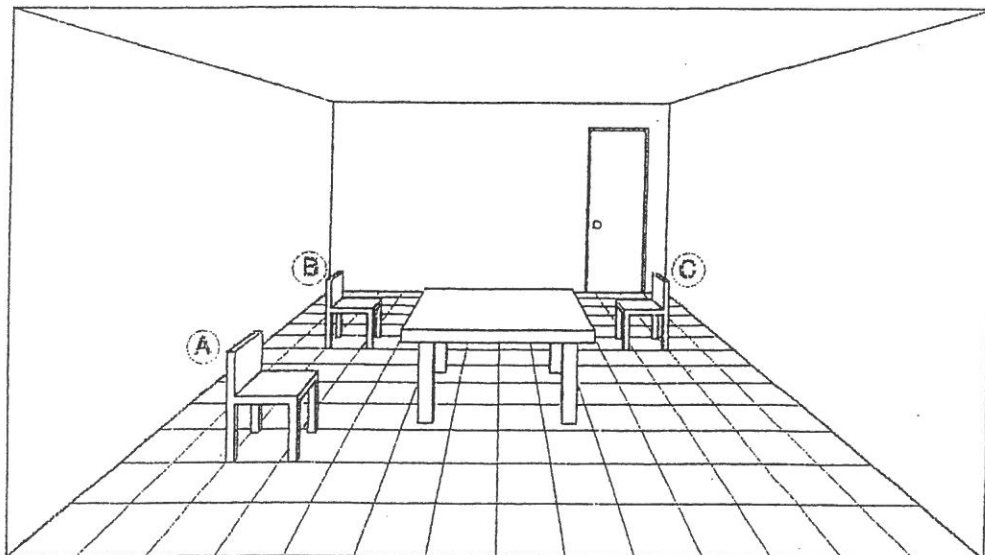
DUES RECTES PERPENDICULARS ENTRE SI:	DUES RECTES PARALLELES ENTRE SI:	DUES RECTES OBLIQUES ENTRE SI:
--------------------------------------	----------------------------------	--------------------------------

4

Explica què és i dibuixa un exemple qualsevol de les figures geomètriques que s'indiquen:

UN POLÍGON: _____ _____ _____	UN POLIEDRE: _____ _____ _____
-------------------------------------	--------------------------------------

5



Com et sembla que són les grandàries de les cadires A, B i C de la imatge comparades entre si:

MARCA AMB UNA CREU LES AFIRMACIONS QUE ET SEMBLIN CORRECTES

- a) A és més gran que B
- b) A és igual que B
- c) B i C són iguals
- d) B i C són diferents
- e) A és igual que C

Justifica les teves respostes:

6

Indica en número total de colors de l'arc de Sant Martí i escriu el seu nom:

a) quants són: _____

b) s'anomenen:

c) saps quins són els colors primaris?:

d) saps com s'obtenen els colors secundaris?:

7



Reforça les línies més importants i ombrreja les zones més fosques. Utilitza llapis HB i B. Explica quin canvi notes en la imatge després de fer-ho.


Es més expressiva? _____

Té més sensació de volum? _____


Raona les teves respostes: _____

8

Treu tots els teus llapis de colors i ordena'ls en dos grups, com colors càlids i freds. Utilitza la teva intuïció si no coneixes aquesta manera de classificar colors.



Pinta amb colors càlids





Pinta amb colors freds

Explica la diferència que veus entre tots dos dibuixos, un cop pintats. Què sensacions et provoquen?

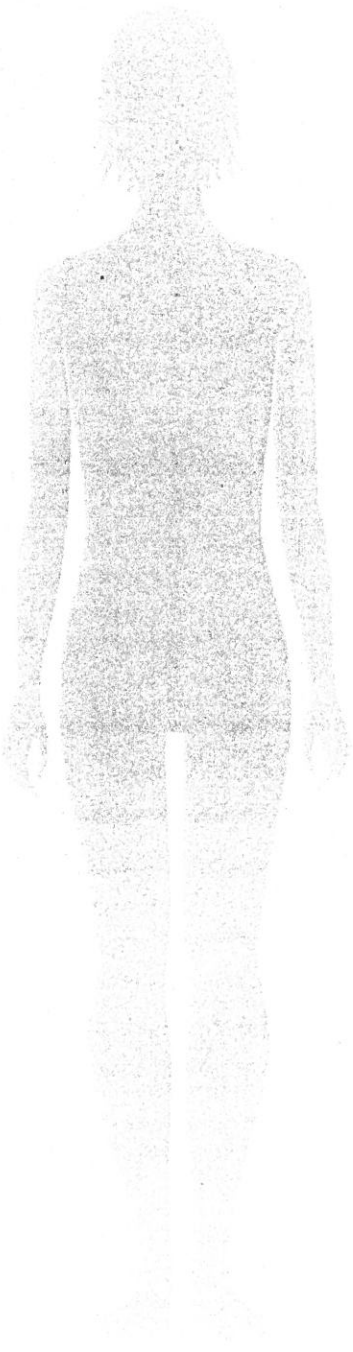

9



Saps qué és un dibuix abstracte? Fes un utilitzant línies rectes i corbes, pinta-ho.











1. Se ha dibujado el contorno de las formas definiendo con claridad cada uno de los planos del paisaje.

2. Se han seleccionado diferentes clases de líneas geométricas para cada superficie y se trazan a mano alzada por medio de trazos.